


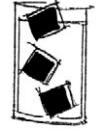




5. Clasificación de la materia

Clasifica las siguientes sustancias según sean sistemas homogéneos o heterogéneos:

	Sistemas heterogéneos	Sistemas homogéneos
La gasolina		
Los gases que libera una erupción volcánica 		
Una estatua de bronce con pedestal de madera		
El diamante 		
Un frasco que contiene judías y garbanzos		
Una infusión de té 		
Una barra de hierro con manchas de pintura		
Un vaso de agua con cubitos de hielo 		
Un frasco que contiene 1 litro de aceite de oliva		
100 gramos de arena y virutas de hierro 		
Yogur de frutas batido		
Yogur de frutas sin batir 		
Bolsa llena de basura doméstica		